

Пояснительная записка

Промежуточная аттестация (итоговый контроль) по истории

КИМ. 11 класс.

Промежуточная аттестация (итоговый контроль) по истории состоит из одной части включающую задания на определение последовательности расположения данных элементов, на установление соответствия элементов, данных в нескольких информационных рядах, на определение по указанным признакам и запись в виде понятий, знание терминов, на работу с иллюстрациями и исторической картой (схемой).

Диагностическая работа охватывает содержание курса Истории России 1914-2012 гг. с включением элементов всеобщей истории (история войн, дипломатии, экономических связей и т.п.) и нацелена на выявление образовательных достижений выпускников средних общеобразовательных учреждений. Задания КИМ охватывают значительный пласт фактического материала. В то же время особое внимание уделяется проверке аналитических и информационно-коммуникативных умений выпускников. Акцентируется внимание на заданиях, направленных на проверку умений: систематизировать исторические факты; устанавливать причинно-следственные, структурные и иные связи; использовать источники информации разных типов (текстовый источник, таблица, историческая карта, иллюстрация) для решения познавательных задач. Диагностическая работа состоит из заданий базового и повышенного уровня сложности. К заданиям базового уровня сложности относятся те задания, где учащимся 11 класса предлагается выполнить операцию узнавания даты, факта и т. п., опираясь на представленную в явном виде информацию. К повышенному уровню сложности относятся задания, в которых от обучающихся требуется самостоятельно воспроизвести, частично преобразовать и применить информацию в типовых в типичных ситуациях, в том числе при работе с иллюстрациями картой (схемой).

Для обозначения частей и заданий используются цифры 1, 2, 3, 4 и т.д.

Промежуточная аттестация (итоговый контроль) по истории

КИМ. 11 класс

Вариант 1

1. Расположите в хронологической последовательности исторические события. Запишите цифры, которыми обозначены исторические события, в правильной последовательности в ответ.

- 1) разгром антипартийной группы Маленкова — Молотова — Кагановича
- 2) принятие партийной резолюции «О единстве партии»
- 3) доклад Н. С. Хрущёва на XX съезде КПСС
- 4) отмена 6-й статьи Конституции СССР о руководящей и направляющей роли КПСС
- 5) разгром троцкистско-зиновьевского блока

2. Какие три из перечисленных явлений относятся к «военному коммунизму»? Соответствующие цифры запишите в ответ.

- 1) аренда мелких и средних предприятий
- 2) продразвёрстка
- 3) всеобщая трудовая повинность
- 4) концессии иностранным предпринимателям
- 5) бесплатные коммунальные услуги
- 6) широкое кооперативное движение

3. Установите соответствие между международными кризисами, участниками которых выступал СССР, и их датами.

МЕЖДУНАРОДНЫЕ КРИЗИСЫ	ДАТЫ
А) Венгерский кризис	1) 1950—1953 гг.
Б) Чехословацкий кризис	2) 1956 г.
В) Карибский кризис	3) 1962 г.
Г) Корейская война	4) 1968 г.
	5) 1979 г.

4. Ниже приведён перечень терминов. Все они, за исключением одного, относятся к событиям, явлениям, происходившим в СССР в 1930-е гг.

- 1) индустриализация; 2) Конституция СССР; 3) культ личности; 4) приватизация
- 5) репрессии; 6) паспортная система

Найдите и запишите порядковый номер термина, относящегося к другому историческому периоду.

5. Напишите пропущенное понятие (термин).

Социально-экономическая политика большевиков в годы Гражданской войны называлась _____.

6. Заполните пустые ячейки таблицы, используя представленные в приведённом ниже списке данные. Для каждой ячейки, обозначенной буквами, выберите номер нужного элемента.

СобытиеДатаУчастник(-и)

Наступательная операция «Багратион» _____ (А)И. Х. Баграмян, И. Д. Черняховский
Сталинградская битва _____ (Б) _____ (В)

_____ (Г)Август–декабрь 1943 г.Г. К. Жуков, К. К. Рокоссовский, И. С. Конев

Битва за Москву _____ (Д) _____ (Е)

Пропущенные элементы:

- 1) М. А. Егоров, М. В. Кантария
- 2) сентябрь 1941 г. – апрель 1942 г.
- 3) Я. Ф. Павлов
- 4) битва на Курской дуге
- 5) битва за Днепр
- 6) июнь–август 1944 г.
- 7) июль 1942 г. – февраль 1943 г.
- 8) И. В. Панфилов

9) май 1942 г.

7. Рассмотрите схему событий одного из периодов Великой Отечественной войны и выполните задание



Укажите название города, обозначенного на схеме цифрой «1».

8. Заполните пропуск в следующей фразе: «Изображённое на схеме сражение произошло в тысяча девятьсот сорок _____ году».

9. Какие суждения, относящиеся к событиям, обозначенным на схеме, являются верными? Выберите три суждения из шести предложенных. Запишите в таблицу цифры, под которыми они указаны.

- 1) На схеме обозначены боевые действия до конца 1943 г.
- 2) События, обозначенные на схеме, явились первым наступлением Красной армии в ходе Великой Отечественной войны.
- 3) На схеме обозначены боевые действия Красной армии в ходе операции «Уран».
- 4) Участником событий, обозначенных на схеме, являлся К. К. Рокоссовский.
- 5) В кольце окружения, обозначенном на схеме, оказалось более 2 млн немецких солдат.
- 6) События, обозначенные на схеме стрелками, начались в ноябре 1942 г.




10. Какие суждения о данном изображении являются верными? Выберите два суждения из пяти предложенных.



Какие суждения о плакате являются верными? Выберите два суждения из пяти предложенных. Запишите в таблицу цифры, под которыми они указаны.

- 1) Плакат появился в годы восстановительной пятилетки.
- 2) Руководителем страны в период появления плаката был Н. С. Хрущёв.
- 3) Период, когда появился данный плакат, вошёл в историю как «оттепель».
- 4) При освоении целины зерновая культура, которой посвящён плакат, была преобладающей.
- 5) Результатом кукурузной компании было решение проблемы снабжения страны продовольствием.

11. Какой из плакатов, представленных ниже, относится к тому же периоду, что и данный? В ответе запишите цифру, под которой он указан.



12. Прочтите отрывок из исторического источника и кратко ответьте на вопросы. Ответы предполагают использование информации из источника, а также применение исторических знаний по курсу истории соответствующего периода.

Из Постановления ЦК ВКП(б) о журналах «Звезда» и «Ленинград».

«В журнале «Звезда» за последнее время... появилось много безыдейных, идеологически вредных произведений. Грубой ошибкой «Звезды» является предоставление литературной трибуны писателю Зощенко, произведения которого чужды советской литературе... Известно, что Зощенко давно специализировался на писании пустых, бессодержательных и пошлых вещей, на проповеди гнилой безыдейности, пошлости и аполитичности, рассчитанных на то, чтобы дезориентировать нашу молодежь и отравить ее сознание.

...Плохо ведется журнал «Ленинград», который постоянно предоставлял свои страницы для пошлых и клеветнических выступлений Зощенко, для пустых и аполитических стихотворений Ахматовой. Как и редакция «Звезды», редакция «Ленинграда» допустила крупные ошибки, опубликовав ряд произведений, проникнутых духом низкопоклонства по отношению ко всему иностранному».

Укажите хронологические рамки, название периода, когда было принято постановление, фамилию руководителя СССР в этот период.

Промежуточная аттестация (итоговый контроль) по истории

КИМ. 11 класс

Вариант 2

1. Расположите в хронологической последовательности исторические события. Запишите цифры, которыми обозначены исторические события, в правильной последовательности в ответ.

- 1) антибольшевистский Кронштадтский мятеж
- 2) расстрел рабочей демонстрации в Новочеркасске
- 3) Февральская революция
- 4) выступление ГКЧП
- 5) мятеж Чехословацкого корпуса

2. Какие три из перечисленных положений относятся к новой экономической политике (1921–1929 гг.)? Запишите в ответ соответствующие цифры.

- 1) утверждение частной собственности на землю
- 2) введение хозрасчета на государственных предприятиях
- 3) денационализация тяжёлой промышленности
- 4) появление кредитно-банковской системы и бирж
- 5) отмена государственной монополии внешней торговли
- 6) введение концессий

3. Установите соответствие между международными событиями и их датами.

СОБЫТИЯ	ДАТЫ
А) создание НАТО	1) 1945 г.
Б) Венгерский кризис	2) 1949 г.
В) возведение Берлинской стены	3) 1956 г.
Г) «Пражская весна»	4) 1961 г.
	5) 1968 г.

4. Ниже приведён перечень терминов. Все они, за исключением одного, относятся к советской политической системе 1930-х гг. или характеризуют её.

- 1) СНК, 2) ГУЛАГ, 3) репрессии, 4) Верховный Совет, 5) гласность, 6) культ личности

Найдите и запишите порядковый номер термина, относящегося к другому историческому периоду.

5. Напишите пропущенное слово.

Вооруженная борьба между социальными группами, характеризующаяся такими понятиями как «красный террор», «белый террор» называется _____ войной.

6. Заполните пустые ячейки таблицы, используя представленные в приведённом ниже списке данные. Для каждой ячейки, обозначенной буквами, выберите номер нужного элемента.

СобытиеДатаУчастник(-и)

Сталинградская битва _____ (А) В. И. Чуйков

Тегеранская конференция _____ (Б) _____ (В)

_____ (Г) январь—февраль 1945 г. К. Жуков

штурм Берлина _____ (Д) _____ (Е)

Пропущенные элементы:

- 1) ноябрь—декабрь 1943 г.
- 2) Висло-Одерская операция
- 3) июль 1942 г.—2 февраля 1943 г.
- 4) апрель;—май 1945 г.
- 5) И. В. Сталин, Ф. Д. Рузвельт, У. Черчилль
- 6) июнь—август 1944 г.
- 7) 9 августа—2 сентября 1945 г.
- 8) И. С. Конев
- 9) Яско-Кишинёвская операция

7. Рассмотрите схему событий одного из периодов Великой Отечественной войны и выполните задание



Напишите название города, обозначенного на схеме цифрой «1».

8. Заполните пропуск в следующей фразе: «Изображённое на схеме сражение произошло в тысяча девятьсот сорок _____ году».

9. Какие суждения, относящиеся к событиям, обозначенным на схеме, являются верными? Выберите три суждения из шести предложенных. Запишите в таблицу цифры, под которыми они указаны.





- 1) В период боевых действий, обозначенных на схеме, в тылу противника проводилась партизанская операция «Рельсовая война».
- 2) В течение всей битвы осуществлялось наступление Красной Армии.
- 3) В результате битвы были освобождены города, обозначенные цифрами «2» и «4».
- 4) Близ населённого пункта, обозначенного цифрой «3», произошло крупнейшее танковое сражение Великой Отечественной войны.
- 5) Немецкими войсками в этом сражении командовал генерал-фельдмаршал Ф. Паулюс.
- 6) Битва, события которой обозначены на схеме, проходила на берегах реки Волги.

10. Какие суждения о данном изображении являются верными? Выберите два суждения из пяти предложенных.



- 1) События, которым посвящена карикатура, произошли после Второй мировой войны.
- 2) Одну из стран на карикатуре символизирует богиня Афродита.
- 3) В военный блок, деятельности которого посвящена данная карикатура, в настоящее время входят некоторые страны, ранее бывшие союзными республиками в составе СССР.
- 4) Военный блок, деятельности которого посвящена данная карикатура, был создан в ответ на создание Организации Варшавского договора.
- 5) Европейская страна, символически изображённая на карикатуре, долгое время входила в состав Российской империи.

11. Укажите изображение объекта, возведенного в том же веке, в котором европейская страна, символически изображённая на карикатуре, получила независимость. В ответе запишите цифру, которой это изображение обозначено.



12. Прочтите отрывок из исторического источника и кратко ответьте на вопросы. Ответы предполагают использование информации из источника, а также применение исторических знаний по курсу истории соответствующего периода.

Из статьи маршала С.Ф. Ахромеева

«В целом для Вооруженных Сил в мирное время расходы материальных ресурсов в Афганистане были очень чувствительными. Афганистан обходился дорого. Каждый день войны 40-й армии обходился в 6,0 млн рублей. Кроме того, постоянно всем необходимым надо было снабжать афганские войска. В итоге стране каждый день войны обходился в 10-11 млн рублей.

Война в Афганистане нанесла ущерб авторитету Советских Вооруженных сил. Им была поставлена неправомерная и нереальная задача: военным путем заставить народ, численностью 17 млн человек, подчиниться непопулярному правительству, опирающемуся на советские штыки. Она была непосильна и для армии численностью 75 тысяч человек, увеличенной затем до 108 тысяч... Здравомыслящим людям заранее была очевидна призрачность иллюзий, которые питал кое-кто насчёт того, что воевать советским войскам в Афганистане не потребуется. Они, дескать, будут стоять гарнизонами, защищая революционный режим от попыток его свержения внешними силами, а с внутренними мятежными силами справится афганская армия. Реальная действительность быстро развеяла эти иллюзии. Советским войскам пришлось втянуться в девятилетнюю кровавую авантюру...»

В каком году началась советская военная кампания, о которой говорится в тексте? Укажите фамилию руководителя СССР, при котором она началась, и фамилию руководителя СССР, при котором она окончилась.

