

**Промежуточная аттестация по окружающему миру
во 2 классе МКОУ «СОШ № 4»**

Промежуточная аттестация по окружающему миру во 2 классе проводится в соответствии со статьей 58 Федерального закона «Об образовании в Российской Федерации» №273-ФЗ от 29.12.2012г., Основной общеобразовательной программой начального общего образования в форме теста.

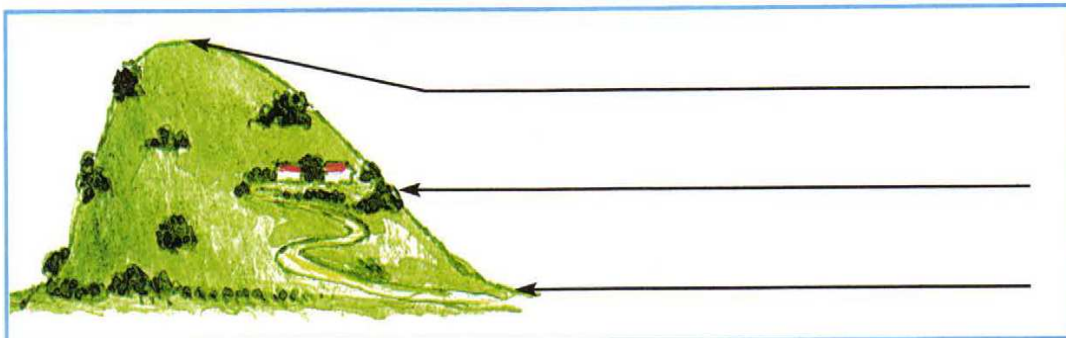
1. Перечисли цвета Государственного флага Российской Федерации (сверху вниз).

Ответ: _____

2. Выбери правильный ответ. К внутренним органам относятся:

- А) лёгкие, грудь, сердце, кишечник; Б) желудок, голова, сердце, пищевод;
В) лёгкие, сердце, печень, желудок; Г) печень, сердце, туловище, мозг.

3. Как называются части холма, которые обозначены на рисунке. Запиши названия.



4. Прочитай внимательно. Что пропущено? Дополни запись.

Виды животных: звери, рыбы, земноводные, пресмыкающиеся, насекомые,

_____.



Запиши кратко главный признак этих животных.

Ответ: _____.

5. Найди примеры связи между живой и неживой природой в окружающем мире:

- а) лошадь ест траву на лугу б) из земли прорастает росток
в) дети купаются в море г) пчела опыляет цветки.

6. Какие виды растений изображены на рисунках? Подпиши названия видов.




7. Сделай вывод. Впиши пропущенные слова.

Мхов и лишайников больше на _____ стороне камней и деревьев.

Снег весной быстрее тает на склонах, обращенных к _____.

8. Узнай животное, которое занесено в Красную книгу по рисунку. Запиши название в строке ответа.



Ответ: _____

9. Что относится к семейным традициям, а что – к культуре общения в семье? Соотнеси цифры с буквами.

1) семейные традиции

2) культура общения в семье

А) благодарить бабушку за вкусный обед

Б) делать игрушки на новогоднюю елку своими руками

В) помочь маме нести сумку из магазина

Г) каждую весну вместе с папой вешать скворечник в парке

10. Внимательно прочитай приведенный ниже список правил безопасности. Какие правила относятся к поведению на природе?

А) осторожно обращаться с электроприборами

Б) не играть со спичками и зажигалками

В) не разжигать костер без взрослых

11. Внимательно рассмотри знак, который можно встретить, например, рядом с асфальтированной дорогой. Какое правило установлено этим знаком?



Напиши это правило. _____

12. Впиши в таблицу вежливые слова (по одному примеру в каждом столбце)

Благодарность	Приветствие	Просьба

13. Узнай по фотографиям строительные материалы. Укажи стрелками их названия.




бетонные плиты



кирпичи



брёвна



доски

14. Как называется страна, в которой ты живёшь? _____

15. Напиши столицу своей страны _____

16. Перечисли символы своей страны _____

17. Нарисуй флаг нашей страны



Председатель аттестационной комиссии _____ / И.В.Гордиенко
Учитель _____ / Р. А. Баскаева

Система оценивания выполнения отдельных заданий и работы в целом

Проверка работ проводится с помощью приложенных к работе **верных ответов и ключей оценивания**. Каждое правильно выполненное задание 2, 3, 7, 10, 11, 14 – оценивается 1 баллом, каждое правильно выполненное задание 1, 5, 6, 9, 13 – оценивается 2 баллами, каждое правильно выполненное задание 4, 8, 15, 16 – оценивается 3 баллами, правильно выполненное задание 12 – оценивается 4 баллами

Рекомендуемая шкала пересчёта первичного балла за выполнение промежуточной (итоговой) работы в отметку по пятибалльной шкале

Отметка по пятибалльной шкале	«2»	«3»	«4»	«5»
Общий балл	0-15	16-22	23-27	28-32